

به نام خالقی که همیشه و در همه جا به یاد ماست

آزمون مداد کاغذی  
نام و نام خانوادگی:  
فصل اول دبستان: شهدا چغادک  
کلاس: سوم ابتدایی  
طراح: خانم زنده بودی



۱- باز شده یک مکعب را رسم کنید؟

\*\*\*\*\*

۲- الگوی عددی زیر را ادامه دهید.

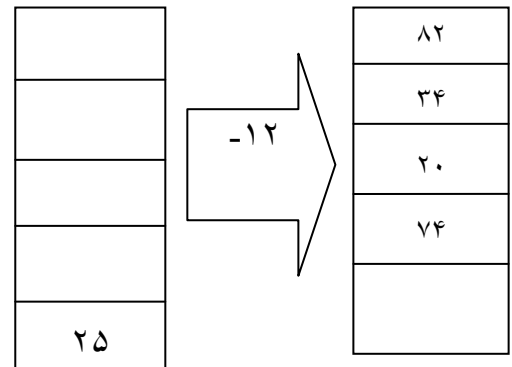
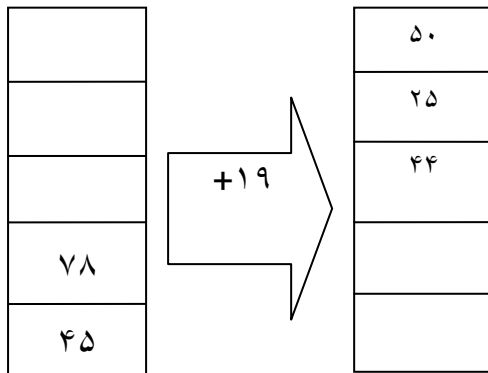
..... - ..... - ..... - ..... - ..... - ۱۲ - ۹ - ۶ - ۳

..... - ..... - ..... - ۱۰ - ۵ - ۲ - ۱



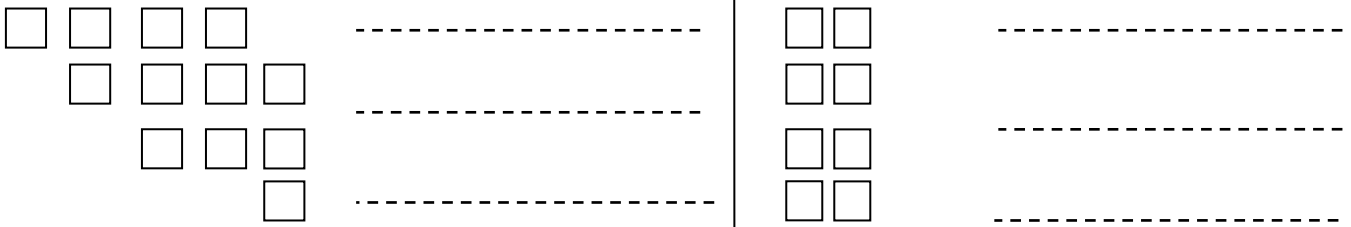
\*\*\*\*\*

۳- جاهای خالی را کامل کنید.



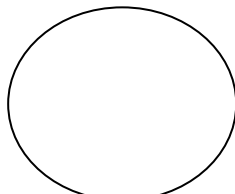
\*\*\*\*\*

۴- تعداد مربع های شکل زیر را با ۳ نوع دسته بندی و به کمک شمارش چند تا چند تا بدست آورید؟



\*\*\*\*\*

۵- دلیندم اتوبوس تهران- بوشهر ساعت ۴:۴۰ دقیقه حرکت کرد. این زمان را روی ساعت نشان بده .





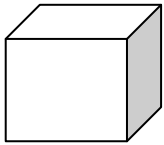
۶- نازنیم هر کدام از ساعت های زیر چه ساعتی از بعد از ظهر و قبل از ظهر را نشان می دهند؟

۲=.....بعد از ظهر      ۶:۳۰=.....بعد از ظهر      ۸:۲۵=.....بعد از ظهر

۱۹:۱۰=.....قبل از ظهر      ۲۲=.....قبل از ظهر      ۱۳:۱۹=.....قبل از ظهر

\*\*\*\*\*

۷- فرزندانم نام هر شکل را بنویس.



.....

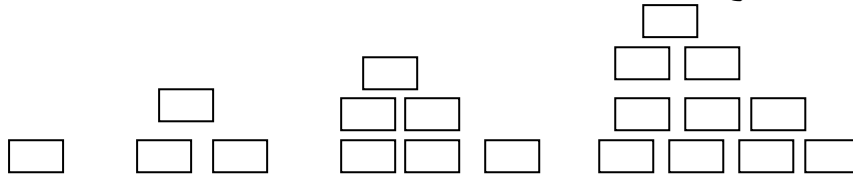
.....

.....

.....

\*\*\*\*\*

۸- الگوهای زیر را ادامه دهید. توضیح دهید که بین عددها و شکل ها چه رابطه ای وجود دارد؟


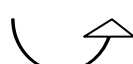


.....

.....

.....

.....



\*\*\*\*\*

۹- قطار یزد تهران ساعت ۹ صبح از سمت یزد به سمت تهران حرکت کرد و ساعت ۱۶ به تهران رسید. این قطار چند ساعت در راه بود است؟

\*\*\*\*\*

۱۰- رضا هر بادکنک را ۲۵۰ تومان می خرد و ۳۰۰ تومان می فروشد. با استفاده از رسم جدول به سوالات پاسخ دهید.

فروش یک بادکنک چند تومان برایش سود دارد؟.....

چند بادکنک بفروشد تا ۲۰۰ تومان سود ببرد؟.....

اختلاف سود فروش ۴ بادکنک و ۲ بادکنک چه قدر است؟.....

او با سود فروش چند بادکنک می تواند یک بادکنک بخرد؟.....



بازخورد آموزگار:

نظر اولیا:

به خاطر تلاشت این دسته گل تقدیم به  
وجود نازنینت

